

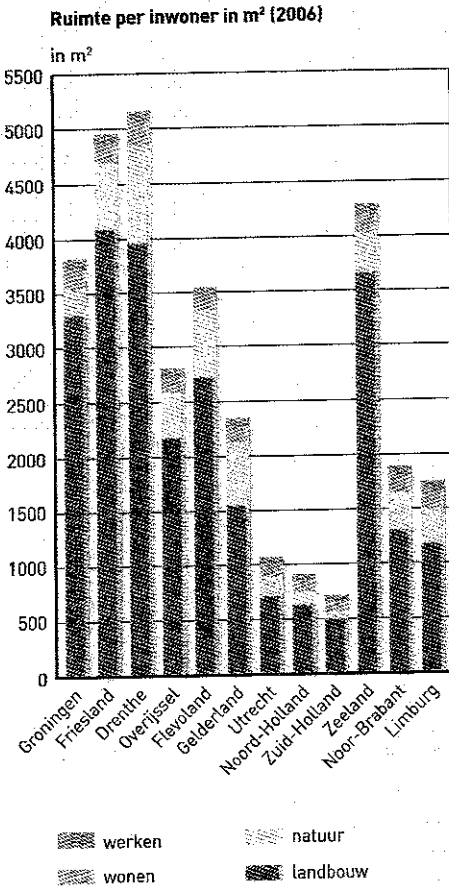
1.5 Bronnen: Ruimte, lucht en water

In deze paragraaf onderzoek je de kwaliteit van ruimte, water en lucht in stedelijke en landelijke gebieden.

Bron 1

Ruimte per inwoner

De bevolkingsdichtheid is het hoogst in stedelijke gebieden. Daar liggen steden en hun voorsteden dicht bij elkaar. De bevolkingsdichtheid is lager in landelijke gebieden.



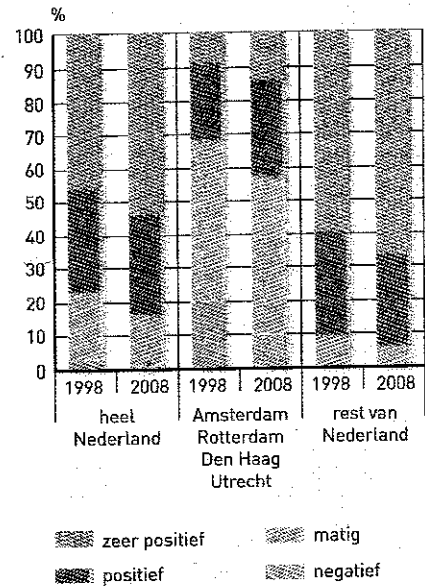
Bron 2

Leefbaarheid in de grootste steden


In deze bron kun je zien wat Nederlanders vinden van de leefbaarheid van hun woonomgeving.

De leefbaarheid hangt af van verschillende dingen, zoals de veiligheid, welke voorzieningen er in de wijk zijn of hoe ver mensen van het stadscentrum wonen. Ook de tevredenheid over de ruimtelijke kwaliteit is belangrijk. Daarmee wordt bedoeld hoe goed of slecht de gebouwen, de woonomgeving of het landschap van een gebied zijn.

Leefbaarheid in de vier grote steden (1998-2008)



Bron 3



De veeteelt als vervuiler

In gebieden met veel intensieve veeteelt (Gelderse Vallei, Oost-Brabant) is de lucht- en waterkwaliteit niet altijd goed. De meeste varkens, kippen en kalveren worden in megastallen gehouden. Deze grote aantallen dieren

op een klein oppervlak zorgen voor veel vervuiling. Deeltjes van stro en gedroogde mest komen in de lucht als fijnstof. Ook produceren al die beesten te veel poep en pies (mest). In mest zitten voedingsstoffen, zoals stikstof en fosfaat. Mest is dus goed voor de planten, maar er is zo veel mest dat planten niet alle mest kunnen opnemen. Het spoelt weg en komt terecht in het grond- en oppervlaktewater. Daar veroorzaken hoge concentraties stikstof en fosfaat sterke algengroei, waardoor vissen dood gaan.

